

**Stran 30, naloga15b: Nariši graf funkcije:**

**Rešitev:**

$$f(x) = 2\operatorname{ctg}(x - \Pi)$$

Graf

$$y_1 = \operatorname{ctg}(x - \Pi)$$

$$y_y = \frac{\cos(x - \Pi)}{\sin(x - \Pi)}$$

Najprej poiščem ničle in pole funkcije

$y_1$ . Razteg za 2 v smeri y naredim na koncu.

**N:**  $\cos(x - \Pi) = 0$

Glej graf kotne funkcije  $y = \cos x$

$$x - \Pi = \frac{\Pi}{2} + k\Pi$$

$$x = \frac{3\Pi}{2} + k\Pi$$

$$k \in \mathbb{Z}$$

$$k=0 \quad x_0 = \frac{3\Pi}{2}$$

$$k=-1 \quad x_{-1} = \frac{\Pi}{2}$$

**Razlaga:**

Najprej moram znati narisati  $f(x) = \operatorname{ctg}x$ . Narišem

jo tako, da upoštevam zvezo  $\operatorname{ctg}x = \frac{\cos x}{\sin x}$ , torej

moram poiskati najprej ničle N in pole P, pri čemer upoštevam, da velja  $\operatorname{ctg}(x + k\Pi) = \operatorname{ctg}x$

$$k \in \mathbb{Z} = \{0, \pm 1, \pm 2, \dots\}.$$

Sedaj narišem graf funkcije  $f(x) = \frac{\cos x}{\sin x}$

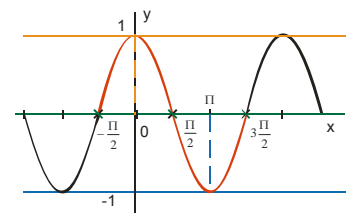
**N:** števec=0

$$\cos x = 0$$

$$x = \frac{\Pi}{2} + k\Pi$$

$$k \in \mathbb{Z}$$

$$k=0; \quad x_0 = \frac{\Pi}{2}$$



**P:** imenoalec=0

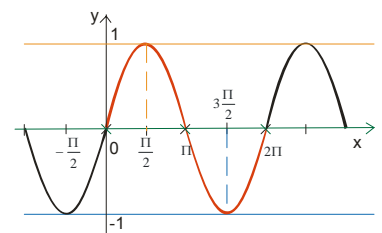
$$\sin x = 0$$

$$x = 0^0 + k\Pi$$

$$k \in \mathbb{Z}$$

$$k=0; \quad x_0 = 0$$

$$k=1; \quad x_1 = \Pi$$



Tu dobim definicijsko območje  $D_f$  za funkcijo tako,

da od  $\mathbb{R}$  odštejem pole (v katerih funkcija ni

P:  $\sin(x - \Pi) = 0$

$$x - \Pi = 0^0 + k\Pi$$

$$x = \Pi + k\Pi \quad k \in \mathbb{Z}$$

$k=0 \quad k = \Pi$

Narišem graf  $y_1(x)$ . Sedaj pa naredim še razteg v smeri y in dobim graf funkcije:

$$f(x) = 2ctg(x - \Pi)$$

Kot vidim, je graf identičen kot za

$$f(x) = ctgx$$

Tu se tudi vidi, da je  $\Pi$  perioda funkcije  $f(x) = ctgx$ .

Lahko pa graf narišem tudi s premiki in raztegi.

Narišem:

1)  $y_1 = ctgx$  in graf premaknem za  $\Pi$  v desno po x. Dobim

$y_2 = ctg(x - \Pi)$  in nato vsak y množim z 2, da dobim iskani graf.

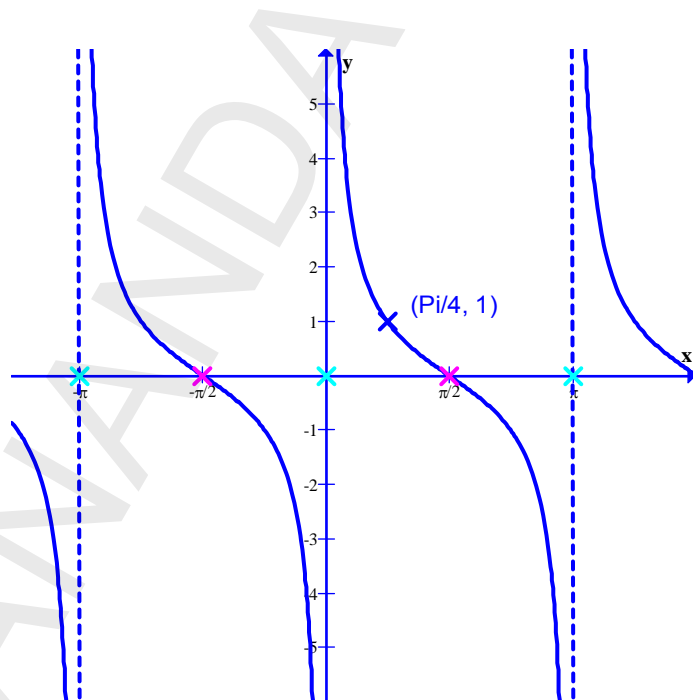
2)  $y = 2ctg(x - \Pi)$

definirana)

$$D_f = \mathbb{R} - \{k\Pi\}$$

Za graf v pravokotni koordinatni sistem vrišem ničle in pole in v polih tudi navpične asimptote.

Tako ničle kot asimptote se ponavljajo na  $\Pi$ .



Med dvema zaporednima ničloma je vedno pol.

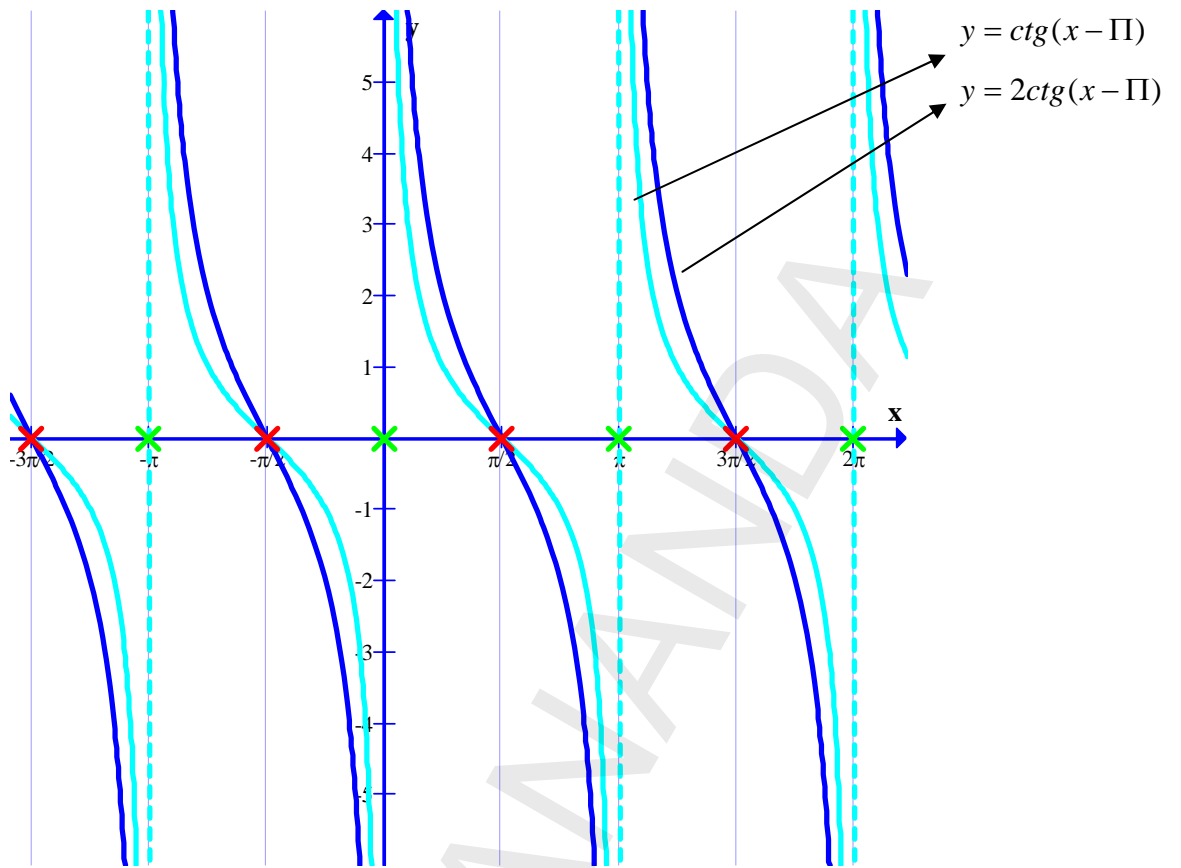
Tako, kot je med dvema zaporednima poloma vedno ničla. Za graf zadostuje, da izračunam samo ničle ali samo pole.

Sedaj pa izberem še točko (kot pri racionalni funkciji), da vem, kako začeti risati graf.

$$\text{Vzamem } x = \frac{\Pi}{4} \Rightarrow f\left(\frac{\Pi}{4}\right) = ctg\left(\frac{\Pi}{4}\right) = 1$$

Ugotovim, da točka  $\left(\frac{\Pi}{4}, 1\right)$  leži na grafu. Narišem

osnovni val na intervalu od  $\left(0, +\frac{\Pi}{2}\right)$ . Na ostalih intervalih se to ponavlja.



SATCITAMANAQA